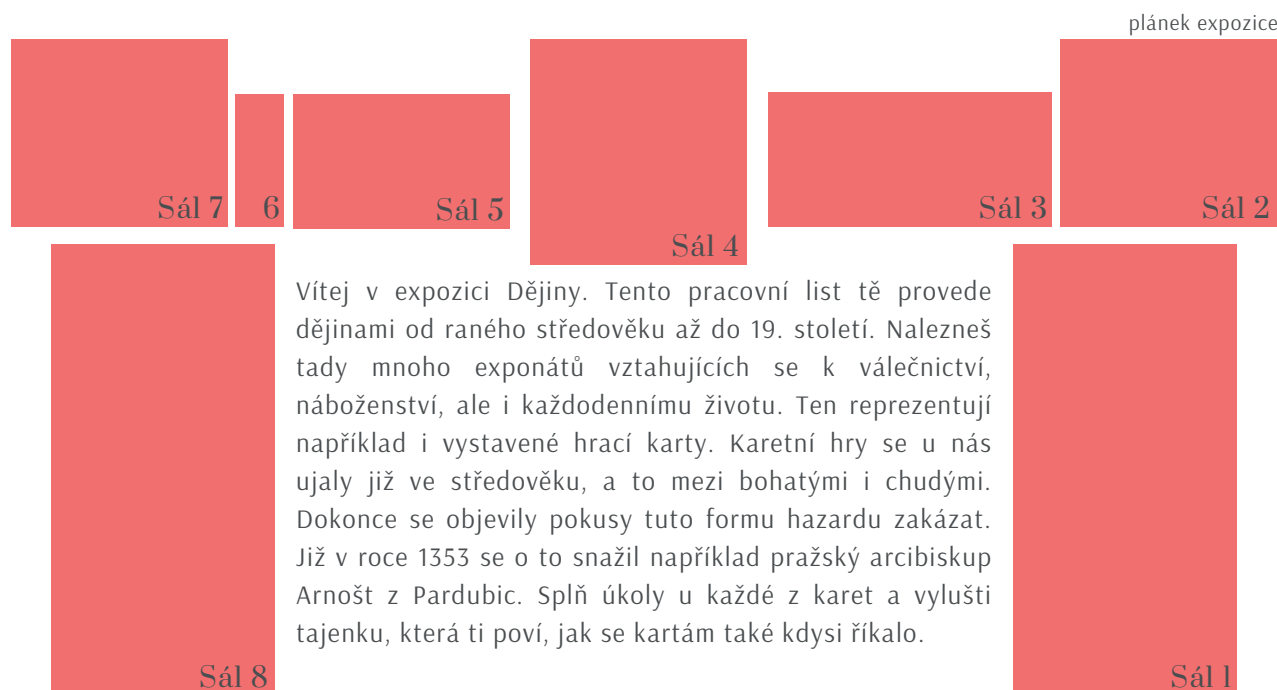


# S KARTAMI SKRZ DĚJINY



## Sál 1

Vítej ve středověku. Prozkoumej románskou rotundu, středověké šperky a vzácné listiny. Najdeš zde gotické okno? Pochází z chrámu budovaného od poloviny 14. století jako hlavní kostel pro staroměstské měšťany. Jak se tento chrám jmenuje?



**Prohod' červeně  
vznačená  
písmena a získáš  
slabiku do  
tajenky:**



## Sál 2

Jak vypadal život ve středověku? Kde lidé žili a co jedli? Jak hospodařili a jak bojovali? To vše se dozvíš v tomto sále. Prohlédni si model Manského domu, který v roce 1422 lehl popelem. U jakého hradu stál?

- A) U Karlštejna (VO)
- B) U Bezdězu (MA)
- C) U Křivokláta (TO)

**Slabika do tajenky:**



## Sál 3

*(Nezapomeň se v tomto sále podívat i na samotné vystavené hrací karty)*

Nyní se nacházíš v době, kdy v českých zemích žili katolíci i kališníci, ale i v době vynalezení knihtisku. V sále najdeš mimo jiné malovanou kopii vzácné mapy, která vznikla roku 1518 v Norimberku a zobrazuje nábožensky rozdělené Čechy. Jak se tato mapa jmenuje?




**Slabika do tajenky:**

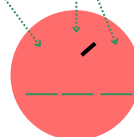


## Sál4

Nech se okouzlit uměním renesance i baroka. Možná tě překvapí, že v době vzniku těchto uměleckých děl lidé hledali odpovědi na otázky o své budoucnosti také v horoskopech. Najdeš zde ten nejznámější, který obsahuje každodenní astrologické předpovědi na dobu od března 1628 do 22. září 1638. Kdo si jej nechal zhotovit?



Slabika do tajenky:

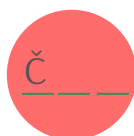


## Sál5

Vítej v sále válek, míru i osvícenských reforem. Jistě sis všiml/a, že mu vévodí kočár pražského arcibiskupa Viléma Florentina ze Salm-Salmu. Vůz se užíval každodenně, jeho konstrukce byla oproti ceremoniálním vozům určeným ke slavnostním příležitostem zjednodušená a byl méně zdobný. Jak se tento typ kočáru nazýval?



Slabika do tajenky:



## Sál 6+7

V sále *Homo revelans* objevuj s našimi vědci přírodní zákony, bádej, popisuj, rozvíjej společenské vědy. Najdeš mezi vystavenými předměty astrolab, přístroj používaný astronomy a navigátory k stanovení a předpovídání polohy hvězd a Slunce, určování místního času a zeměpisné délky? Podaří se ti najít také frenologickou lebku? Pokud stojíš na úrovni prostředku stolu zády k velké mapě na stěně, frenologická lebka je od astrolabu:

- A) Nalevo (I)
- B) Napravo (V)
- C) Přímo pod ním (D)

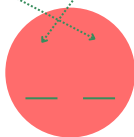
Písmeno, které ti vyjde, napiš do první políčka tajenky z těchto dvou sálů.

Ocitl/a ses v 19. století, v čase vzniku Národního muzea, ale například i tělovýchovných spolků. Pes Kvik byl domácím mazlíčkem jednoho ze zakladatelů Sokola. Zapátrej po Kvikovi v tomto sále a zjisti, jak se jeho majitel jmenoval.



Když si představíš, že toto písmeno přiložíš zespona k písmenu, které ti vyšlo v předchozí otázce ze sálu *Homo revelans*, ukáže se ti druhé písmeno z této, poslední slabiky do tajenky.

Slabika do tajenky:



Nyní umísti slabiky z jednotlivých úkolů do správného pořadí. Postačí, když k nim přiřazené karty seřadíš od nejnižší po nejvyšší. Jak se tedy kartám říkalo?

karty:



tajenka:

